

Nome:

Corso di laurea:

Corso di Matematica, Simulazione di prova scritta - 25 gennaio 2010
Corsi di laurea in Alimentari e Viticoltura ed Enologia

1) (4 punti) Nel 1998 l'inflazione in Nicaragua era così alta che i prezzi raddoppiavano ogni 54 giorni. Sapendo che un oggetto all'inizio del 1998 costa 10, trovare la funzione che rappresenta il suo prezzo dopo x giorni dall'inizio del 1998. Dopo quanti giorni il prezzo è diventato 60? (Scrivere la risposta sia usando l'espressione esatta, sia calcolandone il valore approssimato usando la calcolatrice.)

2) (2.5 punti) Calcolare la derivata seconda della funzione $\tan(x)$

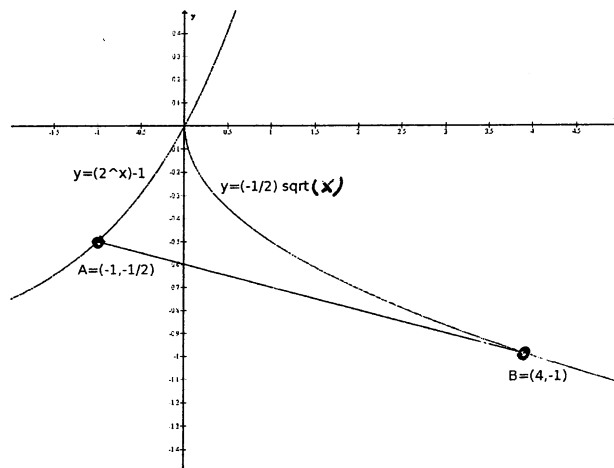
3) Sia $f(x) := \frac{x^2 - 1}{e^{(x^2)}}$. La funzione ha come dominio \mathbb{R} e inoltre $\lim_{x \rightarrow \pm\infty} f(x) = 0$.

- (1) (1.5 punti) dire dove il grafico di f interseca, sta sopra o sta sotto l'asse x ;
- (2) (3.5 punti) dire dove f cresce, dove decresce e quali sono i suoi punti critici;
- (3) (2.5 punti) disegnare (ignorando lo studio della concavità) il grafico di f .

4) (4 punti) Un triangolo rettangolo ha il cateto orizzontale lungo 30cm e il cateto verticale di lunghezza che cresce alla velocità di 2cm al secondo. Dire con che velocità cresce l'ipotenusa di questo triangolo quando il cateto verticale è 10cm . (Ricordo che ipotenusa = $\sqrt{(\text{cateto orizz.})^2 + (\text{cateto verticale})^2}$.)

5) (5 punti) Trovare il punto di massimo assoluto per la funzione $(3+x)^3(3-x)^5$ nell'intervallo $[-3, 3]$. (Suggerimento: dopo aver calcolato la derivata non sviluppare le potenze ma invece metterle in evidenza.)

6) (5 punti) Calcolare l'area dell'insieme in figura, delimitato dal segmento con estremi $A = (-1, -1/2)$ e $B = (4, -1)$ e dai grafici di $(-1/2)\sqrt{x}$ e $2^x - 1$. (Suggerimento: dovete calcolare l'equazione della retta per A e B .)



7) Si prende la parte del grafico di $\sin(x)$ compresa tra $x = 0$ e $x = \pi$ e lo si ruota di un giro completo intorno all'asse x ottenendo un solido di rotazione avente come asse di rotazione l'asse x .

- (1) (2 punti) scrivere l'integrale che esprime il volume di tale solido;
- (2) (4 punti) calcolarne una approssimazione di tale integrale tramite la regola di Simpson con $n = 4$ (svolgere i calcoli fino in fondo).

① Il costo dopo x giorni è
 $C(x) = \text{costo iniziale} \cdot (2)^{\frac{x}{\text{tempo di raddoppio}}} = 10 \cdot (2)^{\frac{x}{54}}$
 Per sapere dopo quanti giorni il costo è 60 devo risolvere
 l'equazione

$$10 \cdot 2^{\frac{x}{54}} = 60, \text{ cioè } 2^{\frac{x}{54}} = 6, \text{ cioè } \frac{x}{54} = \log_2 6$$

$$x = 54 \cdot \log_2 6$$

Per calcolarne il valore numerico usando la calcolatrice
 scrivo $x = 54 \cdot \log_2 6 = 54 \cdot \frac{\ln 6}{\ln 2} = \frac{1.7917 \cdot 54}{0.6931} = 139.58$

Il costo è 60 dopo 139,58 giorni.

② La derivata prima di $\tan(x)$ è $\frac{1}{\cos^2(x)}$. Quindi
 la derivata seconda è (regola del rapporto + regola funzioni composte)

$$\frac{0 \cdot \cos^2(x) - 1(2 \cos(x) \cdot (-\sin x))}{\cos^4(x)} = \frac{2 \sin x}{\cos^3(x)}$$

③ 1) ~~regno di~~ $f = 0 \rightarrow x^2 - 1 = 0$, cioè $x = \pm 1$

regno di $x^2 - 1$	+	-	+
regno di e^{x^2}	+	+	+
regno di f	+	-	+
	-1	1	

Quindi i grafici di f interseca l'asse x in $x = -1$ e $x = +1$
 sta sopra l'asse x in $(-\infty, -1) \cup (1, +\infty)$ e sotto in $(-1, 1)$

$$2) f' = \frac{2x \cdot e^{x^2} - (x^2 - 1) \cdot (e^{x^2} \cdot 2x)}{(e^{x^2})^2} = \frac{e^{x^2} 2x (1 - x^2 + 1)}{(e^{x^2})^2} = \frac{2x(2 - x^2)}{e^{x^2}}$$

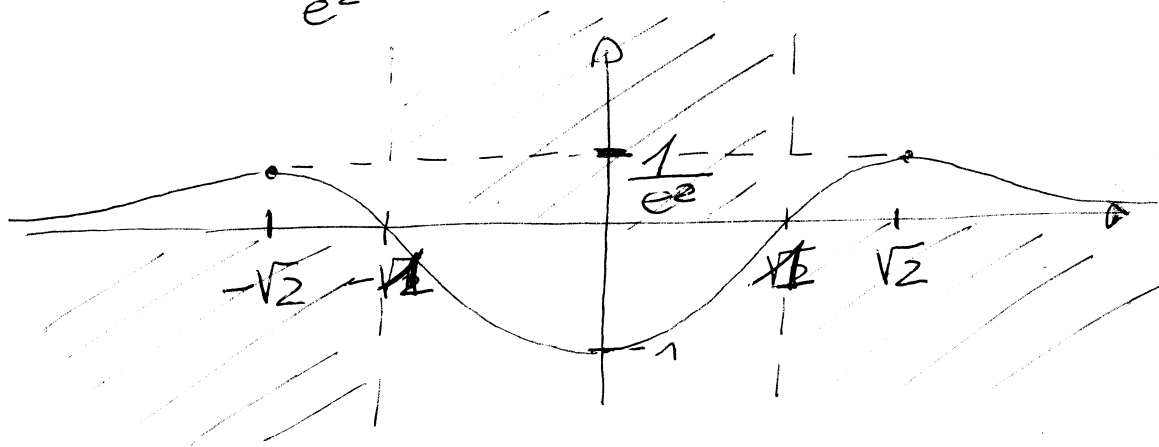
Quindi $f' = 0$ se $2x(2 - x^2) = 0$, cioè se $x = 0, x = \pm \sqrt{2}$

Inoltre

regno di x	-	-	+	+
regno di $2 - x^2$	-	+	+	-
regno di e^{x^2}	+	+	+	+
regno di f'	+	-	+	-
	$-\sqrt{2}$	0	$\sqrt{2}$	

Allora i punti critici di f sono $x=0$, $x=\sqrt{2}$ e $x=-\sqrt{2}$
 la funzione cresce in $(-\infty, -\sqrt{2}) \cup (0, \sqrt{2})$ e decresce altrove.

3) Devo calcolare il valore di f nei punti critici:
 $f(-\sqrt{2}) = \frac{2-1}{e^2} = \frac{1}{e^2}$, $f(0) = -1$, $f(\sqrt{2}) = \frac{1}{e^2}$



④ chiamiamo CO la lunghezza del cateto orizzontale,
 $CV(t)$ la funzione che esprime la lunghezza del
 cateto verticale, e $IP(t)$ la lunghezza dell'ipotenusa

- il problema dice che

- $CO = 30$ costante

- ~~$CV(t)$~~ la derivata di $CV(t)$ è 2

$$- IP(t) = \sqrt{30^2 + (CV(t))^2} \quad (*)$$

- il problema chiede la derivata di $IP(t)$ quando
 $CV = 10$

Derivando la formula (*) usando la regola di derivazione
 delle funzioni composte ho

$$\frac{d}{dt} IP(t) = \frac{1}{\sqrt{900 + (CV(t))^2}} \cdot (CV(t)) \cdot \frac{d}{dt} CV(t)$$

Sostituendo in questa formula il valore 10 per $CV(t)$ e
 2 per $\frac{d}{dt} CV(t)$ ottengo

$$\frac{d}{dt} IP(t) = \frac{1}{\sqrt{900 + 100}} \cdot 10 \cdot 2 = \frac{20}{\sqrt{1000}} = \frac{2}{\sqrt{10}}$$

Quindi l'ipotenusa cresce di $\frac{2}{\sqrt{10}}$ centimetri al secondo

⑤ Troviamo i punti critici di $(3+x)^3(3-x)^5$ in $[-3, 3]$. La derivata è

$$\begin{aligned} & 3(3+x)^2 \cdot 1 \cdot (3-x)^5 + (3+x)^3 \cdot 5(3-x)^4 \cdot (-1) \\ &= (3+x)^2(3-x)^4 [3(3-x) + 5(3+x)] \\ &= (3+x)^2(3-x)^4 (9 - 3x - 15 - 5x) \\ &= (3+x)^2(3-x)^4 (-6 - 8x) \end{aligned}$$

che si annulla quando $x = -3$, $x = 3$ e $x = -\frac{3}{4}$

Allora i candidati per punti di max assoluto sono gli estremi dell'intervallo + i punti critici, cioè

$$\begin{aligned} x &= -3 \\ x &= 3 \\ x &= -\frac{3}{4} \end{aligned}$$

Calcolo il valore di f in questi punti $f(-3) = 0$
 $f(3) = 0$

$$f\left(-\frac{3}{4}\right) = \left(\frac{9}{4}\right)^3 \left(\frac{15}{4}\right)^5$$

il valore massimo assoluto è quindi $\left(\frac{9}{4}\right)^3 \left(\frac{15}{4}\right)^5$
 e il punto di max assoluto è $x = -\frac{3}{4}$

⑥ Scrivo l'equazione della retta per A e B con la formula dell'equazione della retta per due punti dati e ottengo $y = -\frac{1}{10}x - \frac{6}{10}$. Allora

$$\text{Area} = \int_{-1}^0 (2^x - 1) - \left(-\frac{x}{10} - \frac{6}{10}\right) dx + \int_0^4 \frac{\sqrt{x}}{2} - \left(-\frac{x}{10} - \frac{6}{10}\right) dx$$


$$= \left[\frac{2^x}{\ln(2)} - x + \frac{x^2}{20} + \frac{6}{10}x \right]_{-1}^0 + \left[-\frac{1}{\frac{2}{3}} x^{\frac{3}{2}} + \frac{x^2}{20} + \frac{6}{10}x \right]_0^4$$

$$= \left(\frac{2}{\ln(2)} + 0 \right) - \left(\frac{1}{2\ln(2)} + 1 + \frac{1}{20} + \frac{3}{5} \right) + \left(-\frac{1}{3} 4^{\frac{3}{2}} + \frac{16}{20} + \frac{3}{5} \cdot 4 \right) - 0$$

⑦ Le formule per il volume dei solidi di rotazione applicate a questo caso da

$$\text{Volume} = \pi \int_0^{\pi} (\text{sen}(x))^2 dx$$

Per approssimare tale integrale con le regole di Simpson divido l'intervallo $[0, \pi]$ in quattro parti uguali



Le formule di Simpson da

$$\begin{aligned} \text{Volume} &\approx \pi \left(\frac{\Delta x}{3} \cdot \left((\text{sen}(0))^2 + 4(\text{sen} \frac{\pi}{4})^2 + 2(\text{sen}(\frac{\pi}{2}))^2 \right. \right. \\ &\quad \left. \left. + 4(\text{sen} \frac{3}{4}\pi)^2 + (\text{sen} \pi)^2 \right) \right) \\ &\approx \pi \cdot \frac{\pi}{12} \cdot \left(0 + 4 \left(\frac{\sqrt{2}}{2} \right)^2 + 2 \cdot 1^2 + 4 \left(\frac{\sqrt{2}}{2} \right)^2 + 0 \right) \\ &= \frac{\pi^2}{12} (2 + 2 + 2) = \frac{\pi^2}{2} \end{aligned}$$